

**1. Elabora un eix cronològic amb les dades següents:**

Australopithecus	H. neanderthalensis	150.00 / 35.000	3500000 / 2500000
Homo habilis	Homo erectus	2.300.000 / 1.800.000	1.900.000 / 400.000

**2. Indica els tipus de megàlits de la Prehistòria i explica llur funció:**

.....

.....

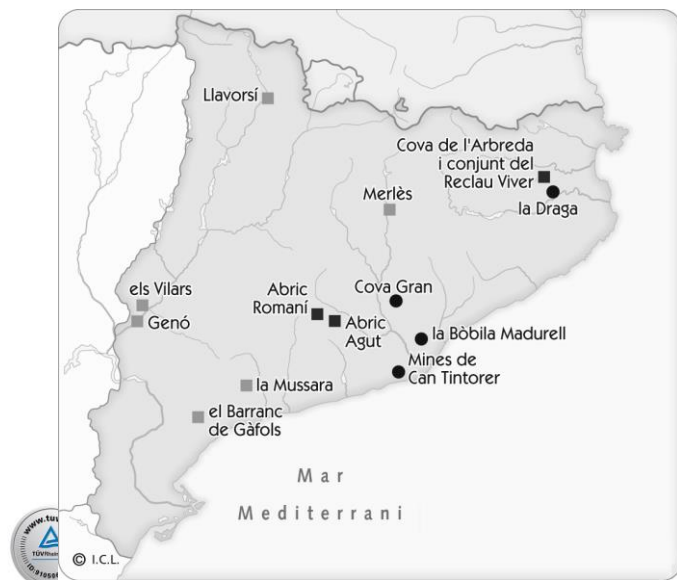
.....

.....

**3. Indica si les següents afirmacions són verdaderes (V) o falses (F):**

- Les aldees neolítiques eren autosuficients.
- Amb la metal·lúrgia van aparèixer els primers especialistes.
- L'expansió del comerç va afavorir l'aparició de grups socials.
- El ferro va ser el primer metall que es va fer servir a l'Edat dels Metalls.
- La cultura de Los Millares i la d'El Argar van desenvolupar-se durant el Neolític.

**4. Consulta el llibre de text i explica a què corresponen els següents elements de la llegenda que hi ha al mapa:**



.....



.....



.....

**1. Acoloreix al mapa aquestes zones:**

La Vall del Rift

El Creixent Fèril

**Anota el nom dels estats actuals  
allí on correspon.**

VALL DEL RIFT:

- 1: .....
- 2: .....
- 3: .....
- 4: .....
- 5: .....
- 6: .....
- 7: .....

CREIXENT FÈRIL:

- 1: .....
- 2: .....
- 3: .....
- 4: .....
- 5: .....
- 6: .....
- 7: .....



**2. Visiona el vídeo següent sobre les mines prehistòriques de Gavà i contesta:**

<http://www.tiching.com/737720>

- Què era la variscita i per a què es feia servir? .....
- .....
- .....
- Quines són les mines en galeria més antigues d'Europa? .....
- .....
- .....
- Quan es van construir aquestes mines? Per a què es van construir? .....
- .....
- .....

**3. Per què creus que s'atribueix al període Neolític el nom de "Revolució Neolítica"? Raona la teva resposta.**

.....

.....

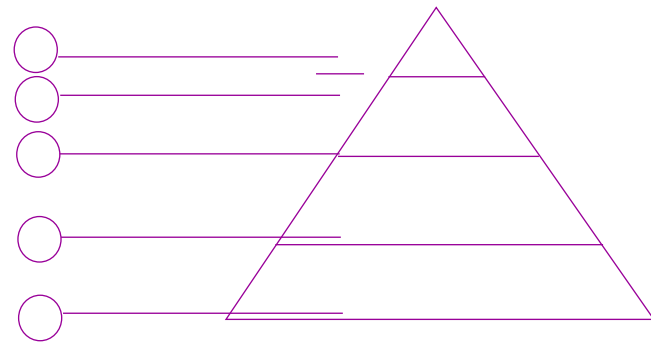
.....

.....

.....

**1. Indica a la piràmide, seguint un ordre jeràrquic, la lletra que correspon als següents grups socials d'Egipte:**


- a. Camperols.
- b. Alts funcionaris i escribes.
- c. Artesans i comerciants.
- d. Soldats.
- e. Faraó.



**2. Respon les següents preguntes sobre l'aparició de l'escriptura:**

- Quines van ser les causes que van impulsar el desenvolupament de l'escriptura? .....
- .....
- .....
- Com va evolucionar l'escriptura des dels primers pictogrames? .....
- .....
- .....

**3. Identifica les imatges dels següents complexos funeraris egipcis i descriu-ne característiques principals:**



- A. Piràmide: .....
- .....
- B. Hipogeu: .....
- .....
- C. Mastaba: .....
- .....

1. Localitza al mapa les següents ciutats i elements geogràfics on es va desenvolupar la civilització grega i escriu els seus noms:



Àsia Menor

Atenes

Mar Egeu

Mar Jònic

Macedònia

Peloponès

Troia

Esparta

Focèa

2. Explica les diferències del tipus de govern a les polis d'Esparta i Atenes. Utilitza les paraules dels requadres:

govern oligàrquic

aristòcrates

ciutadans

institucions democràtiques

3. Escriu els noms dels conceptes relacionats amb la colonització grega de la Mediterrània allí on correspon:

Lliga de Delos

G. Mèdiques

Alexandre

Filip IV

G. del Peloponès

- Rei que va derrotar els atenesos i va iniciar la conquesta de Grècia: .....
- Guerra en què s'enfrontaren Esparta i Atenes: .....
- Associació de ciutats dirigida per Atenes: .....

- Rei macedoni que va unificar l'Hèl·lade: .....
- Guerres en què es van enfrontar els exèrcits d'Atenes i Pèrsia: .....

**1. Visita aquest web i, a continuació, respon a les preguntes plantejades sobre la democràcia a Atenes:**

<http://www.tiching.com/737690>

- La democràcia atenenca era per a tothom? Justifica la teva resposta.

.....  
.....  
.....  
.....

- De quins drets estaven privades les dones a la democràcia atenenca?

.....  
.....

**2. Entra al següent web, identifica tres temples de l'acròpoli d'Atenes i descriu-los:**

<http://www.tiching.com/737598>

1. Partenó.....

2. Erectèon.....

3. Temple d'Atena Nike.....

..... ..... ..... ..... ..... .....	..... ..... ..... ..... ..... .....	..... ..... ..... ..... ..... .....
--	--	--

**3. Descriu les conseqüències socials i culturals de les conquestes d'Alexandre el Gran i defineix breument el concepte d'Hel·lenisme.**

.....

.....

.....

.....

.....

**1. Indica si les afirmacions següents sobre els orígens de Roma i l'època de la monarquia són verdaderes (V) o falses (F):**

- Al començament la ciutat de Roma va ser governada per una oligarquia.
- Els romans van considerar que la seva història començava l'any 753 aC.
- Roma es va edificar sobre set turons per protegir-se dels enemics.
- La península Itàlica estava habitada per llatins, celtes i ibers al segle VII aC.
- La ciutat de Roma va tenir set reis, i els tres últims van ser d'origen etrusc.

**2. Contesta les preguntes següents sobre la Roma republicana:**

- Què significa *res publica*? .....
- Quines eren les diferències entre patricis i plebeus en els primers temps de la República? .....
- Quina era la funció del tribú de la plebs? .....

**3. Indica com va néixer el cristianisme i on. Després explica per què al començament va ser perseguit:**

.....

.....

.....

**4. Indica les causes de les crisis que hi va haver a l'Imperi romà:**

- Causes polítiques i socials: .....
- Causes militars: .....
- Causes econòmiques: .....

**1. Pensa en la situació dels esclaus a la Grècia clàssica i a Roma. En quina de les dues societats trobes que els tractaven millor? Per què?**

.....

.....



**2. Busca informació al llibre i a Internet sobre quan van passar aquests fets històrics. Després escriu la data que correspon a cada esdeveniment.**

509 a. C.

48 a. C.

27 a. C.

212 d. C.

235 d. C.

El Senat concedeix el títol d'*August* a Octavi. ....

Comença un període d'alta inestabilitat política per a l'Imperi. ....

L'emperador Caracal·la amplia el dret de ciutadania romana. ....

Roma es converteix en República després d'una revolta contra el rei. ....

Juli Cèsar és proclamat dictador perpetu i assumeix els màxims poders. ....

**3. Entra al web i fes una visita virtual a l'antiga Roma. Assegura't de llegir totes les informacions durant la visita i, després, contesta les preguntes:**

<http://www.tiching.com/740310>

– Com eren els carrers de les ciutats romanes? .....

– Què eren els *lars*? .....

– Quina diferència hi ha entre una persona "lliure" i una persona "lliberta"? .....

– Quin tipus d'informacions podem trobar als murs i a les parets? .....

– Descriu el mercat romà i explica per què era important: .....

– Indica per què l'aigua era vital per al dia a dia dels romans: .....